

Liebe Schülerinnen und Schüler,

nachdem wir uns in den letzten Wochen (vor Corona) mit dem Thema „Leben an Nord- und Ostsee“ beschäftigt haben, wollen wir thematisch nun genau in die andere Richtung Europas gehen. Dort erwartet uns ein Hochgebirge, das vor vielen Millionen Jahren entstanden ist:

Die Alpen

Die nächsten Seiten sind so aufgebaut, dass ihr euch selbstständig die Inhalte erarbeiten könnt: mit den hier eingebauten Materialien, mit deinem Erdkundebuch und vielleicht auch mit dem Internet. Vielleicht habt ihr ja sogar noch einen alten Atlas zu Hause. Die Schulatlanten stehen ja momentan leider nicht zur Verfügung.

Einige Aufgaben könnt ihr im Heft bearbeiten, andere auf einem Arbeitsblatt. Es wäre toll, wenn ihr die gekennzeichneten Seiten als Arbeitsblätter ausdrucken könntet. Wenn das nicht geht, ist das aber auch nicht schlimm. Dann bearbeitest du diese Aufgaben auch einfach im Heft.

Ich wünsche euch nun viel Spaß in den Alpen! Euer Erdkundelehrer
Wir starten heute mit Teil 1!



Die Alpen



Die nächsten Folien zeigen die Alpen von oben; als Satellitenbilder und als physische Karten (also als Landkarten).

Schaue dir die Satellitenbilder und Karten in Ruhe an. Beobachte genau die Lage der Alpen.

Aufgabe 1:

Schreibe einen Text, in dem du die Lage der Alpen beschreibst. Nutze dafür die Satellitenbilder und Karten der nächsten Folien. Gerne kannst du auch die Karten hinten in deinem Erdkundebuch oder Informationen aus dem Internet verwenden.

Bitte
im Heft
bearbeiten!

Die Alpen von oben



Die Alpen von oben



Die Alpen von oben



Die Alpen von oben



Die Alpen auf der Landkarte



Die Alpen auf der Landkarte

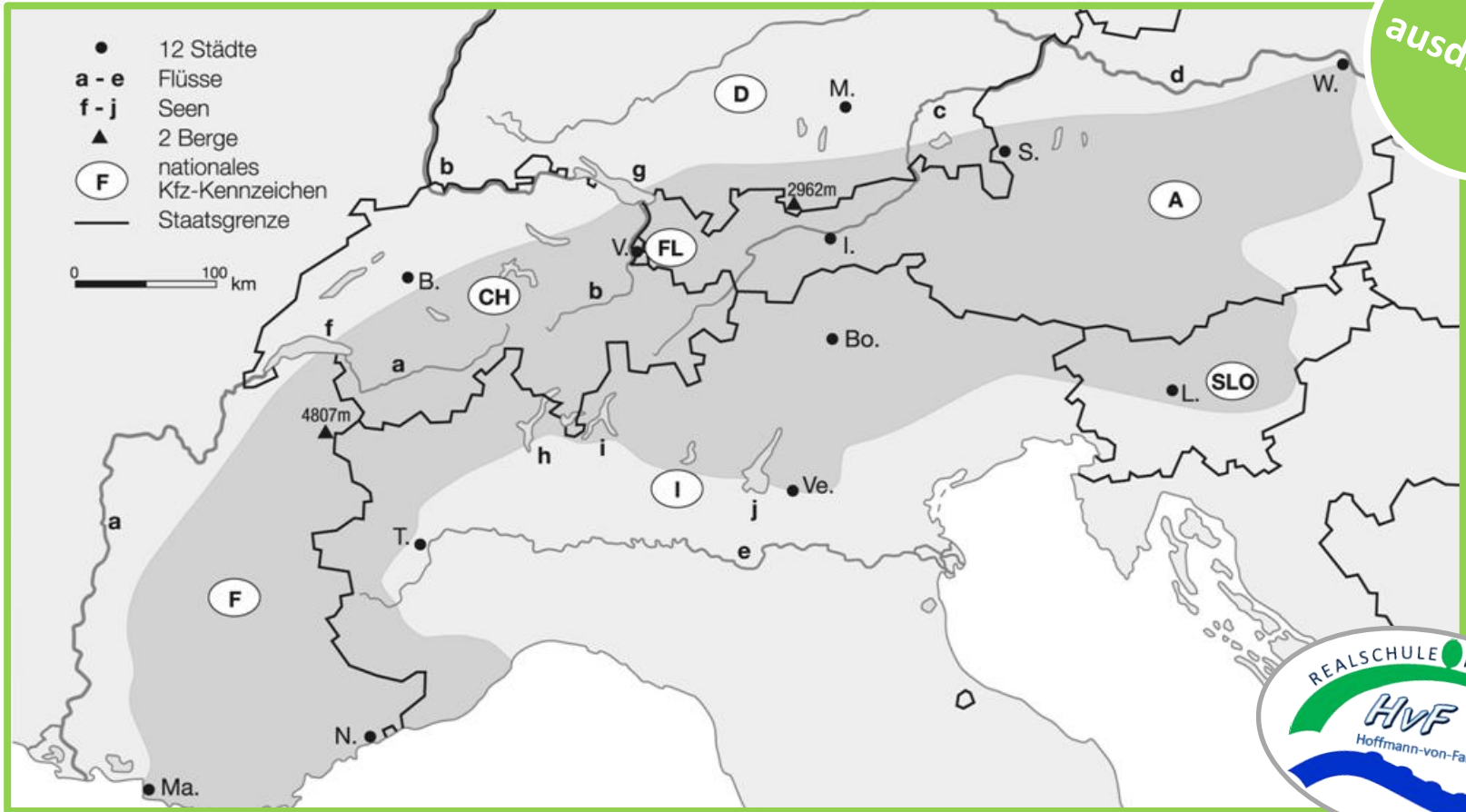






Aufgabe 2: Die folgende Karte zeigt dir, welche Länder an den Alpen beteiligt sind. Schreibe unten alle Länder entsprechend ihrer Abkürzung auf.

Bitte ausdrucken!

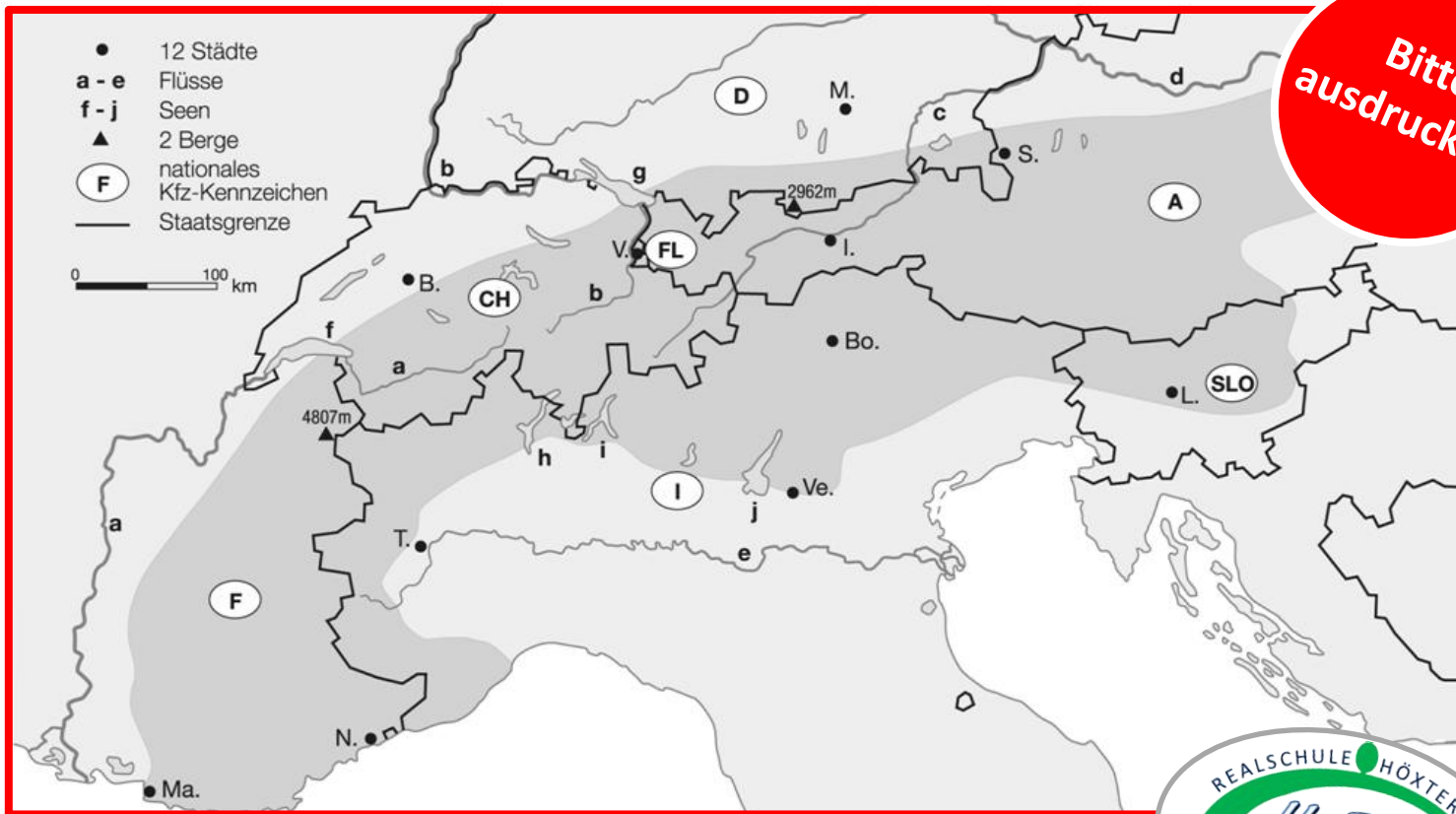


Staaten

(F) _____	(I) _____
(CH) _____	(FL) _____
(D) _____	(A) _____
	(SLO) _____

Aufgabe 3: Trage unten die Namen wichtiger Berge, Flüsse und Seen ein. Sie alle liegen in den Alpen.

Bitte ausdrucken!



Trage ein:

Berge

▲ 4807 m _____

▲ 2962 m _____

Flüsse/Seen

a _____

f _____

b _____

g _____

c _____

h _____

d _____

i _____

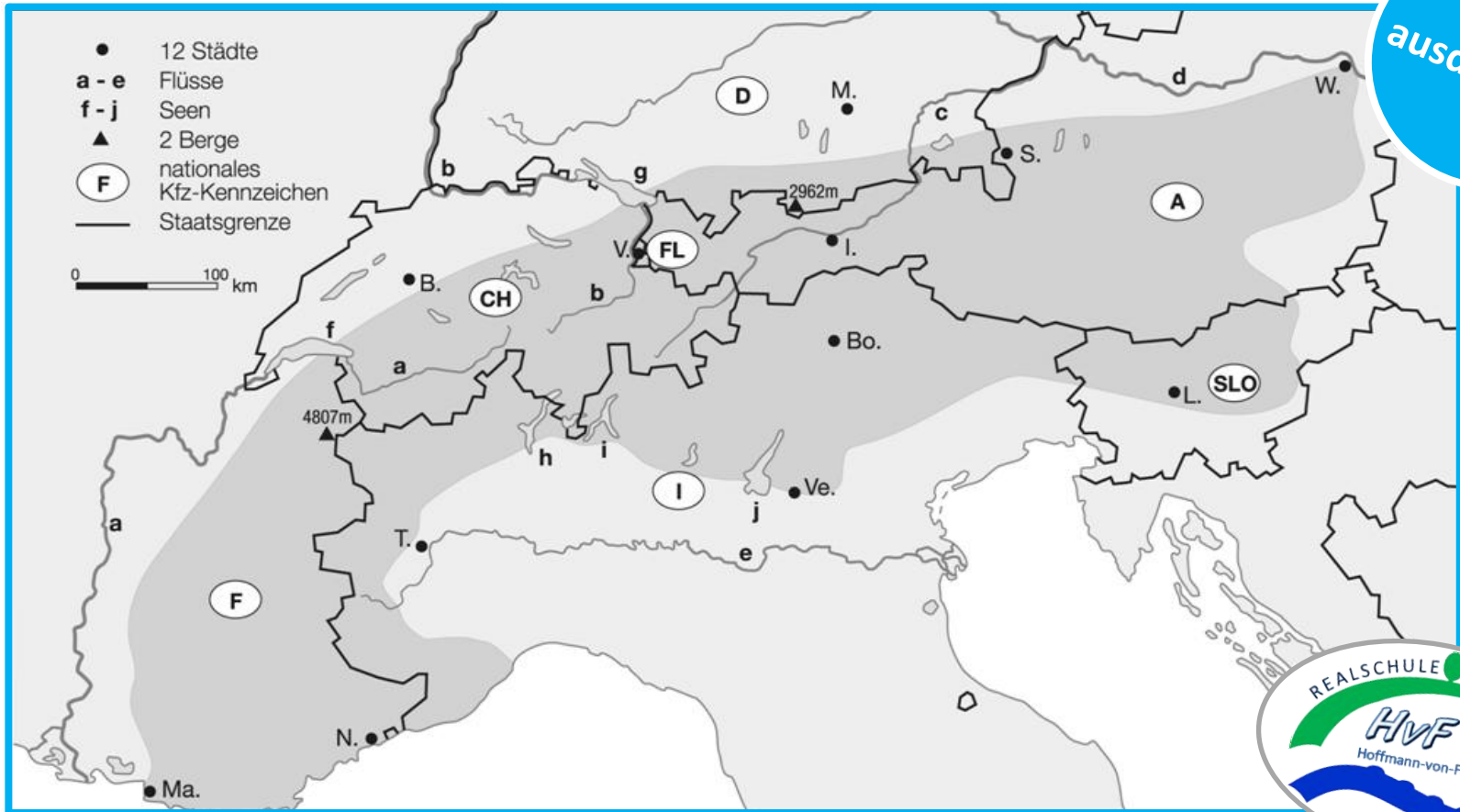
e _____

j _____



Aufgabe 4: Trage unten die Namen bedeutender Städte ein. Sie alle liegen in den Alpen.

Bitte ausdrucken!



Städte

M. _____

T. _____

S. _____

B. _____

Ve. _____

W. _____

Ma. _____

Bo. _____

L. _____

N. _____

I. _____

V. _____

A topographic map of a mountainous region, likely the Alps, with a semi-transparent text box overlaid. The map shows various elevations, valleys, and a network of rivers. A small red plus sign is visible on the map, centered below the first text block.

ACHTUNG:

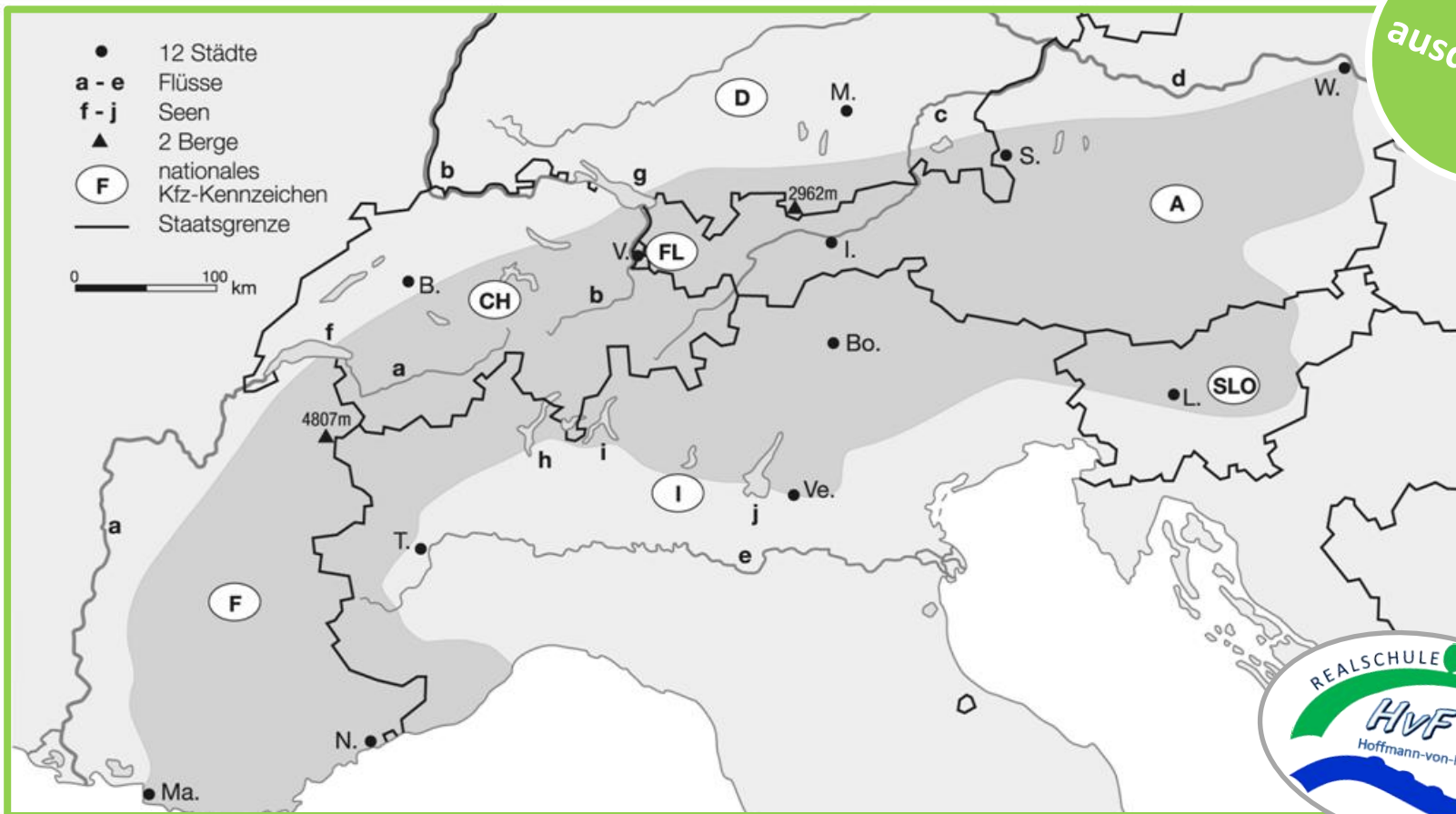
Gleich kommen die Lösungen der
Aufgaben 2 bis 4.

Deshalb:

Erst die Aufgaben **bearbeiten**, **dann** mit
den Lösungen **vergleichen!**

Aufgabe 2: Die folgende Karte zeigt dir, welche Länder an den Alpen beteiligt sind. Schreibe unten alle Länder entsprechend ihrer Abkürzung auf.

Bitte ausdrucken!



Staaten

(F) **Frankreich** _____

(CH) **Schweiz** _____

(D) **Deutschland** _____

(I) **Italien** _____

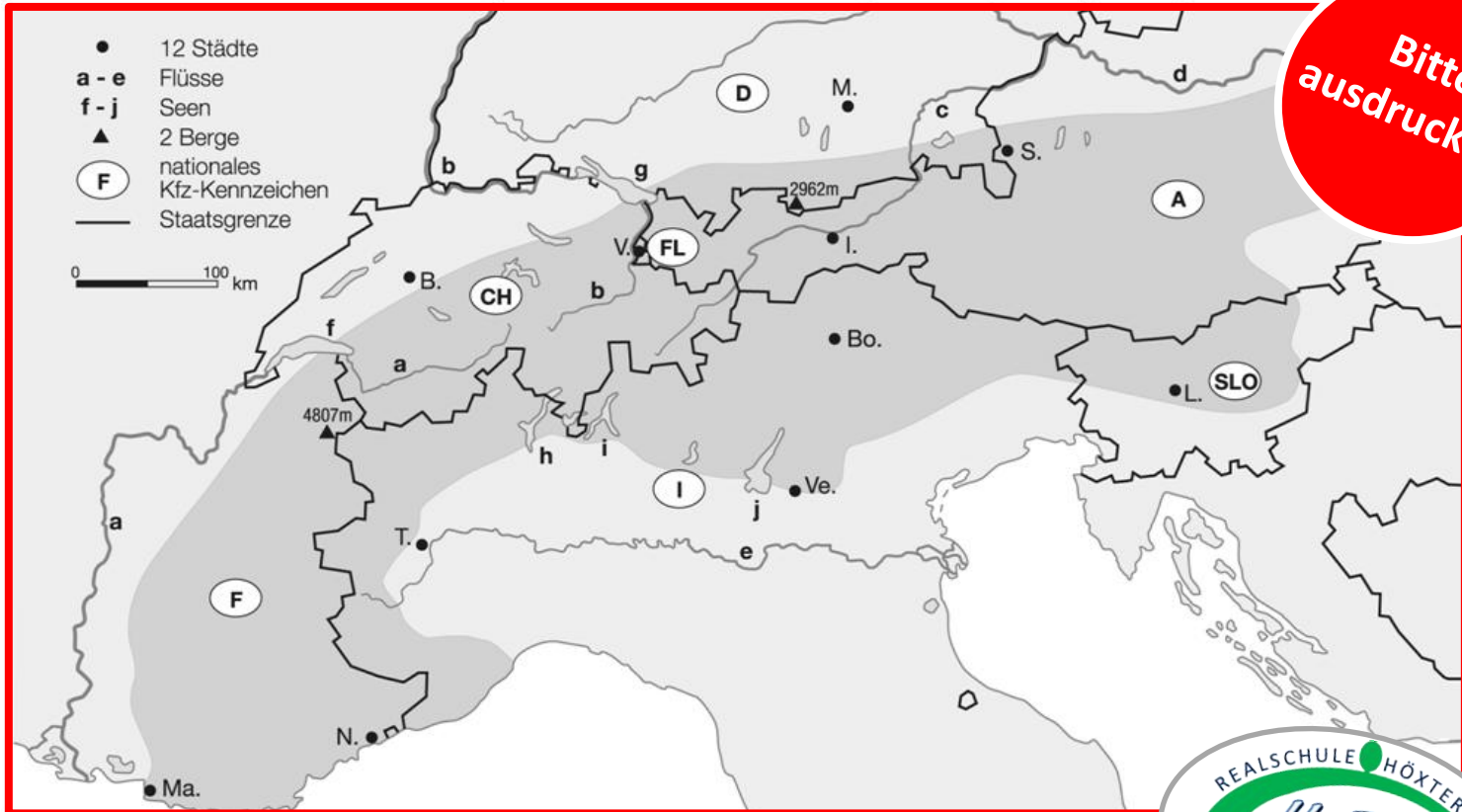
(FL) **(Fürstentum) Liechtenstein** _____

(A) **Österreich** _____

(SLO) **Slowenien** _____

Aufgabe 3: Trage unten die Namen wichtiger Berge, Flüsse und Seen ein. Sie alle liegen in den Alpen.

Bitte ausdrucken!



Trage ein:

Berge

▲ 4807 m Montblanc

▲ 2962 m Zugspitze

Flüsse/Seen

a Rhone

f Genfer See

b Rhein

g Bodensee

c Inn

h Lago Maggiore

d Donau

i Comer See

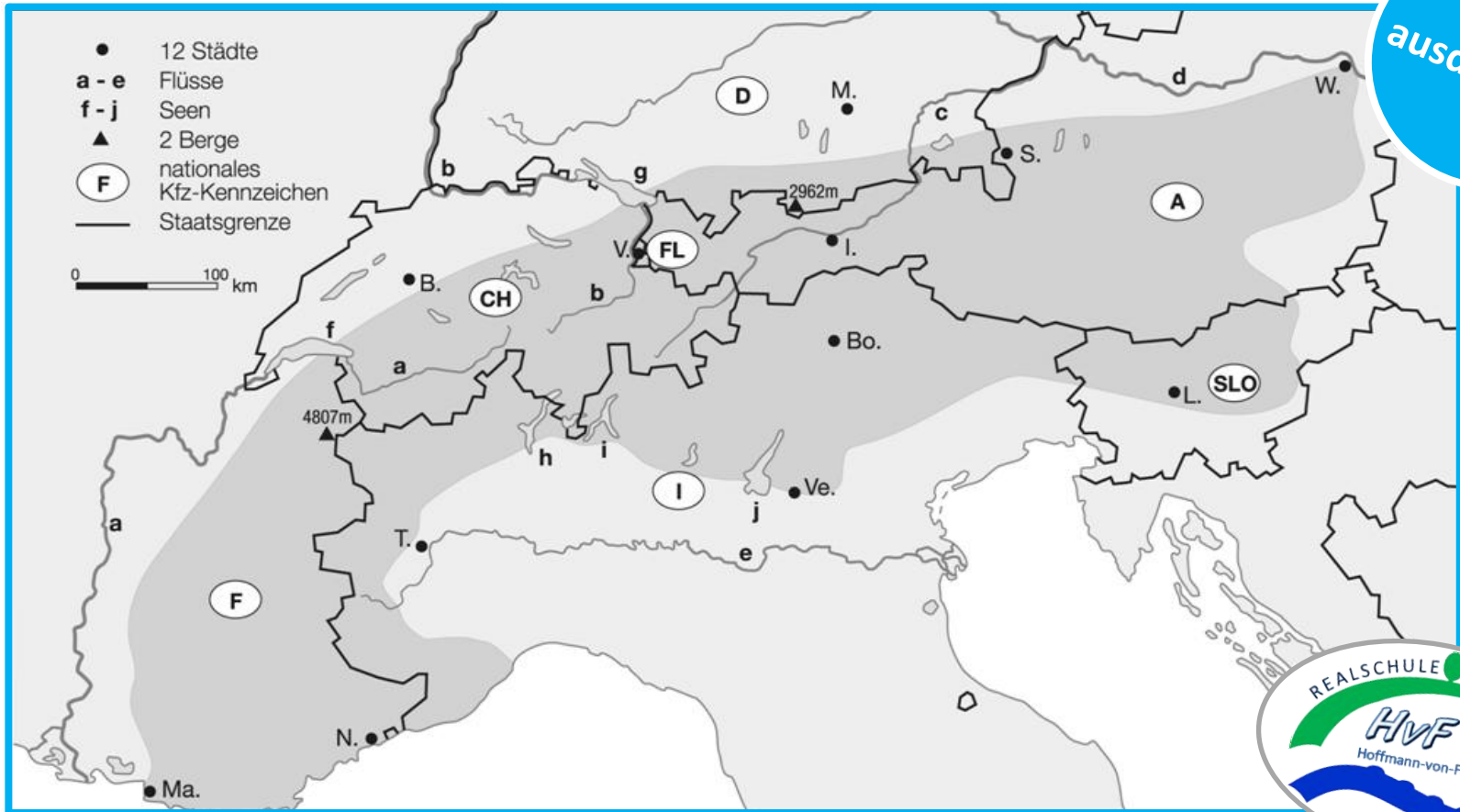
e Po

j Gardasee



Aufgabe 4: Trage unten die Namen bedeutender Städte ein. Sie alle liegen in den Alpen.

Bitte ausdrucken!



Städte

M. **München**

T. **Turin**

S. **Salzburg**

B. **Bern**

Ve. **Verona**

W. **Wien**

Ma. **Marseille**

Bo. **Bozen**

L. **Ljubljana**

N. **Nizza**

I. **Innsbruck**

V. **Vaduz**

An aerial topographic map of a mountainous region, likely the Alps, showing a complex network of valleys and ridges. A semi-transparent dark grey rectangular box is centered over the map, containing white text. The text is arranged in two lines: the first line is 'ENDE' in a large, bold, sans-serif font, and the second line is 'von Teil 1' in a slightly smaller, lowercase sans-serif font. The background map uses a color gradient from green (low elevation) to brown and tan (high elevation) to represent terrain. A small red dot is visible on the map, marking a specific location in the lower part of the mountain range. The bottom of the image shows a dark blue area, possibly a lake or a deep valley, with a white shoreline.

ENDE
von Teil 1